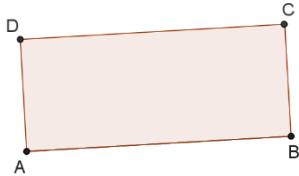


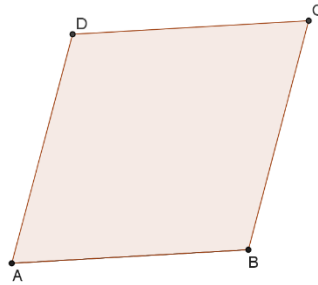
### Traccia, conta, confronta

Utilizzando gli opportuni strumenti di disegno traccia in ciascuno dei poligoni assegnati, se possibile, un'altezza. Nel caso in cui pensi di non doverla disegnare, poiché già presente in figura, puoi ripassarla con un pastello colorato.

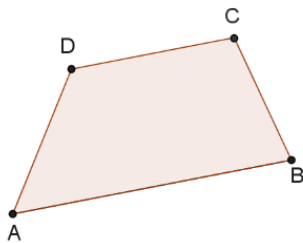
a)



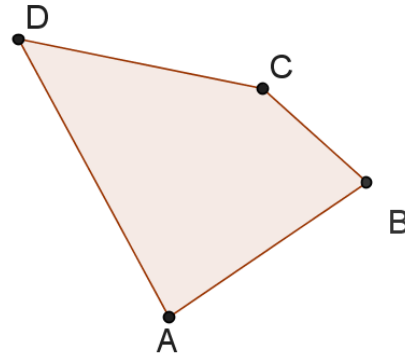
b)



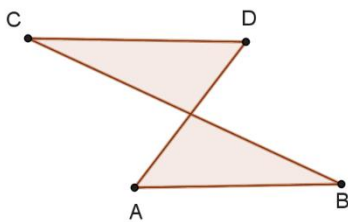
c)



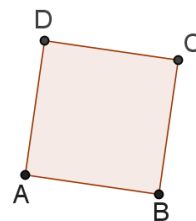
d)



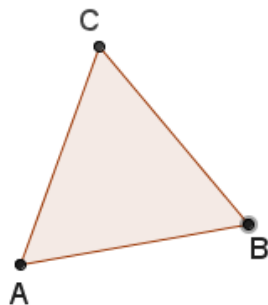
e)



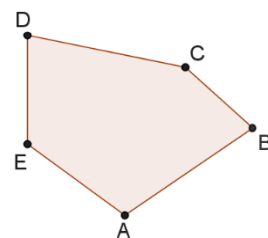
f)



g)



h)



Completa la tabella relativa ai casi precedenti, dopo aver disegnato le altezze che non hai tracciato in precedenza.

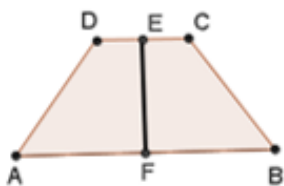
Caso	Numero altezze
a)	
b)	
c)	
d)	
e)	
f)	
g)	
h)	

Completa sui puntini indicando quali casi, tra i precedenti, raffigurano poligoni con altezze congruenti: .....

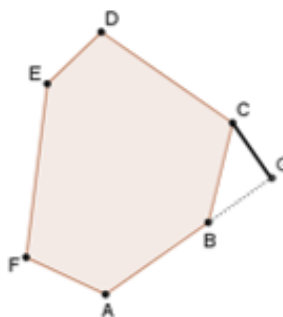
**Altezza sì, altezza no**

Indica i casi nei quali il segmento evidenziato con un tratto spesso non può essere considerato altezza del poligono. Motiva il perché. Confronta poi le tue scelte con quelle dei tuoi compagni.

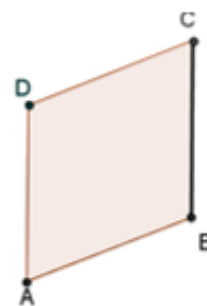
a)



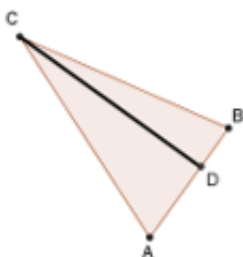
b)



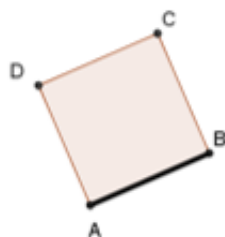
c)



d)



e)



f)

